

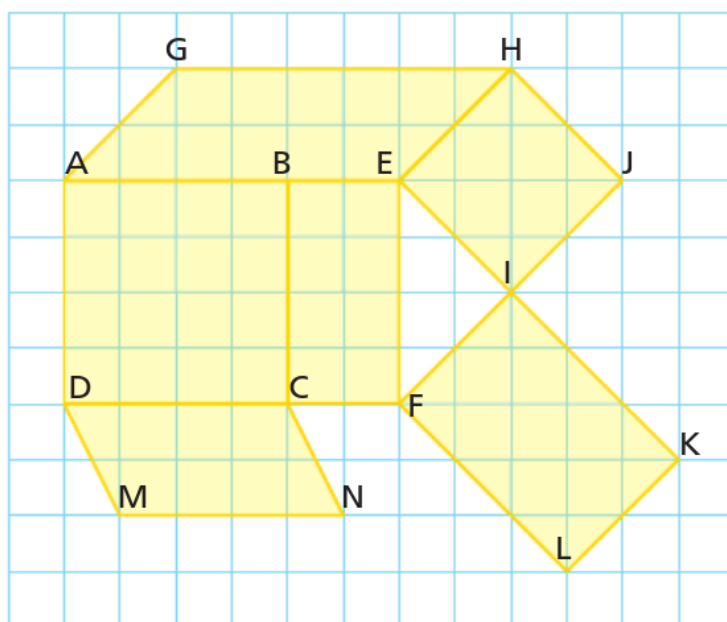
Chapitre 4 : Quadrilatères

Exercice 1

1. Construire le carré $BCDE$ avec $BD = 5,8$ cm.
2. Construire le rectangle $GHIJ$ avec $GH = 8$ cm et $HI = 6$ cm.
3. Construire le parallélogramme $HIIK$ avec $HJ = 5,2$ cm, $HK = 5,8$ cm et $KJ = 3,9$ cm.
4. Construire le carré $ABCD$ avec $AB = 5,8$ cm.
5. Construire le losange $LMNO$ avec $LN = 8,8$ cm et $MO = 7,2$ cm.
6. Construire le rectangle $UVWX$ avec $UV = 6$ cm et $UW = 10$ cm.
7. Construire le losange $IJKL$ avec $IJ = 6$ cm et $IK = 7,2$ cm.
8. Construire le losange $CDEF$ avec $CE = 6,4$ cm et $DF = 7,2$ cm.
9. Construire le rectangle $UVWX$ avec $UV = 4,6$ cm et $UW = 8,8$ cm.
10. Construire le carré $NOPQ$ avec $NP = 9,2$ cm.

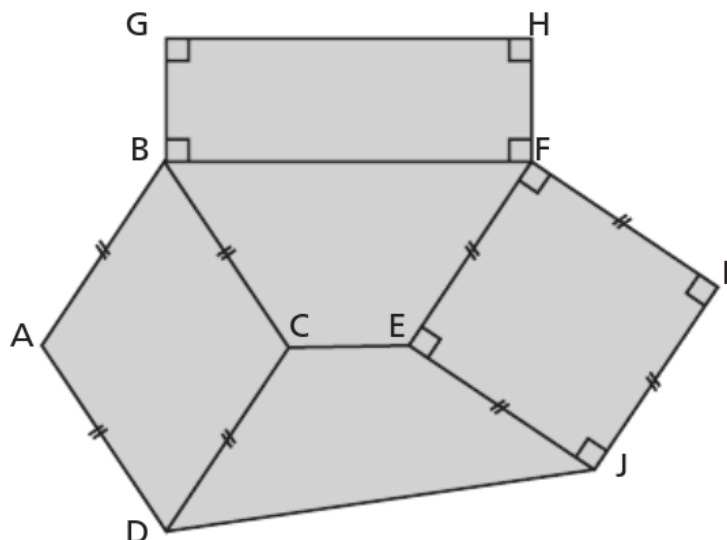
Exercice 2

Liste les rectangles, les carrés et les parallélogrammes à l'aide du quadrillage en justifiant.



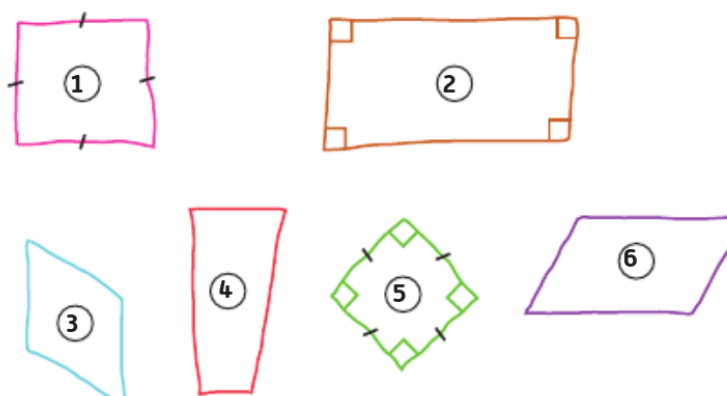
Exercice 3

Liste les rectangles, les losanges et les carrés en justifiant.



Exercice 4

Liste les rectangles, les losanges et les carrés en justifiant.



Exercice 5

Donne la nature de ces quadrilatères en justifiant.

